

4 Из предложенного перечня выберите два вещества, в которых присутствует ковалентная полярная связь.

- 1) фторид серы(VI)
- 2) оксид бария
- 3) фторид натрия
- 4) сульфат магния
- 5) ромбическая сера

Запишите номера выбранных ответов.

Ответ:

--	--

5 Установите соответствие между формулой оксида и группой, к которой этот оксид принадлежит: к каждой позиции, обозначенной буквой, подберите соответствующую позицию, обозначенную цифрой.

ФОРМУЛА ОКСИДА	ГРУППА ОКСИДОВ
А) SO ₂	1) основные
Б) N ₂ O	2) амфотерные
В) В ₂ O ₃	3) несолеобразующие
	4) кислотные

Запишите в таблицу выбранные цифры под соответствующими буквами.

Ответ:

А	Б	В

6 Из предложенного перечня выберите два оксида, которые реагируют с раствором гидроксида калия.

- 1) CrO
- 2) MgO
- 3) CrO₃
- 4) CO₂
- 5) N₂O

Запишите номера выбранных ответов.

Ответ:

--	--

7 Даны две пробирки с осадком гидроксида алюминия. В одну из них добавили раствор сильной кислоты X, а в другую – раствор сильного электролита Y. В результате в каждой из пробирок наблюдали растворение осадка. Из предложенного перечня выберите вещества X и Y, которые могут вступать в описанные реакции.

- 1) HF
- 2) LiOH
- 3) NH₃
- 4) CuSO₄
- 5) HI

Запишите в таблицу номера выбранных веществ под соответствующими буквами.

Ответ:

X	Y

8 Установите соответствие между формулой вещества и реагентами, с каждым из которых это вещество может взаимодействовать: к каждой позиции, обозначенной буквой, подберите соответствующую позицию, обозначенную цифрой.

ФОРМУЛА ВЕЩЕСТВА	РЕАГЕНТЫ
А) С	1) I ₂ , CO, FeS ₂
Б) S	2) H ₂ O, LiOH, K ₂ O
В) Cu ₂ O	3) O ₂ , CO ₂ , FeO
Г) P ₂ O ₅	4) HBr, Ag, PH ₃
	5) HNO ₃ , C, O ₂

Запишите в таблицу выбранные цифры под соответствующими буквами.

Ответ:

А	Б	В	Г

- 9 Установите соответствие между исходными веществами, вступающими в реакцию, и продуктом(-ами) этой реакции: к каждой позиции, обозначенной буквой, подберите соответствующую позицию, обозначенную цифрой.

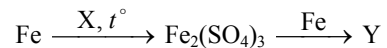
ИСХОДНЫЕ ВЕЩЕСТВА	ПРОДУКТ(Ы) РЕАКЦИИ
А) NaHSO_3 и Ca(OH)_2 (изб.)	1) Na_2SO_3 и H_2O
Б) NaHSO_3 и NaOH	2) CaSO_3 , NaOH и H_2O
В) SO_2 и NaOH (изб.)	3) Na_2SO_4 и H_2O
Г) SO_3 (изб.) и NaOH	4) NaHSO_4
	5) $\text{Ca(HSO}_3)_2$ и NaOH
	6) NaHSO_3

Запишите в таблицу выбранные цифры под соответствующими буквами.

Ответ:

А	Б	В	Г

- 10 Задана схема превращений веществ:



Определите, какие из указанных веществ являются веществами X и Y.

- 1) FeSO_4
- 2) Fe(OH)_3
- 3) H_2SO_4 (конц.)
- 4) H_2SO_4 (разб.)
- 5) FeS

Запишите в таблицу номера выбранных веществ под соответствующими буквами.

Ответ:

X	Y

- 11 Установите соответствие между формулой вещества и его названием: к каждой позиции, обозначенной буквой, подберите соответствующую позицию, обозначенную цифрой.

ФОРМУЛА ВЕЩЕСТВА	НАЗВАНИЕ ВЕЩЕСТВА
А) CH_3NO_2	1) нитрометан
Б) $\text{CH}_3\text{CH(NH}_2\text{)COOH}$	2) метиламин
В) CH_3NH_2	3) аланин
	4) анилин

Запишите в таблицу выбранные цифры под соответствующими буквами.

Ответ:

А	Б	В

- 12 Из предложенного перечня выберите два вещества, которые являются изомерами *n*-пропилового спирта.

- 1) пропанол-2
- 2) метилэтиловый эфир
- 3) бутанол-1
- 4) пропионовый альдегид
- 5) пропилацетат

Запишите номера выбранных ответов.

Ответ:

--	--

13 Из предложенного перечня выберите две пары исходных веществ, в результате взаимодействия которых образуется метан.

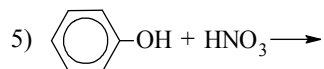
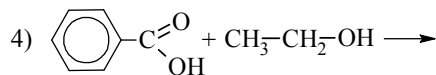
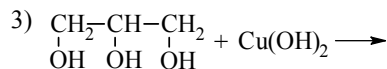
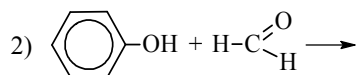
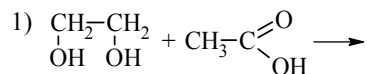
- 1) Al_4C_3 и H_2O
- 2) CH_3Cl и Na
- 3) CH_3COONa и NaOH (сплавление)
- 4) C_2H_4 и H_2
- 5) CaC_2 и H_2O

Запишите номера выбранных ответов.

Ответ:

--	--

14 Из предложенного перечня выберите две схемы реакций, в результате которых образуются сложные эфиры.

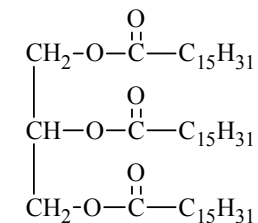


Запишите номера выбранных ответов.

Ответ:

--	--

15 Из предложенного перечня выберите два вещества, которые образуются при щелочном гидролизе жира, формула которого



- 1) $\text{C}_{15}\text{H}_{31}\text{—OH}$
- 2) $\text{C}_{15}\text{H}_{31}\text{—COOH}$
- 3) $\text{C}_{15}\text{H}_{31}\text{—ONa}$
- 4) $\text{CH}_2\text{—CH—CH}_2$
 $\text{OH} \quad \text{OH} \quad \text{OH}$
- 5) $\text{C}_{15}\text{H}_{31}\text{—COONa}$

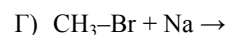
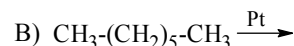
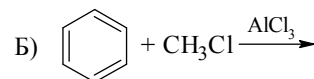
Запишите номера выбранных ответов.

Ответ:

--	--

16 Установите соответствие между схемой реакции и органическим веществом, преимущественно образующимся в этой реакции: к каждой позиции, обозначенной буквой, подберите соответствующую позицию, обозначенную цифрой.

СХЕМА РЕАКЦИИ



ПРОДУКТ РЕАКЦИИ

1) бензол

2) толуол

3) этан

4) этен

5) пропан

6) этилбензол

Запишите в таблицу выбранные цифры под соответствующими буквами.

Ответ:

А	Б	В	Г

- 17** Установите соответствие между схемой реакции и органическим веществом – продуктом реакции: к каждой позиции, обозначенной буквой, подберите соответствующую позицию, обозначенную цифрой.

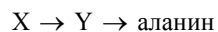
СХЕМА РЕАКЦИИ	ПРОДУКТ РЕАКЦИИ
А) $\text{HOCH}_2\text{CH}(\text{OH})\text{CH}_2\text{OH} \xrightarrow{\text{Cu}(\text{OH})_2}$	1) пропаналь
Б) $\text{CH}_3\text{CH}(\text{OH})\text{CH}_3 \xrightarrow{\text{CuO}, t^\circ}$	2) ацетат меди(II)
В) $\text{CH}_3\text{CH}_2\text{CHO} \xrightarrow{\text{Cu}(\text{OH})_2, t^\circ}$	3) ацетон
Г) $\text{CH}_3\text{CH}_2\text{CH}_2\text{OH} \xrightarrow{\text{CuO}, t^\circ}$	4) пропионат меди(II)
	5) пропионовая кислота
	6) глицерат меди(II)

Запишите в таблицу выбранные цифры под соответствующими буквами.

Ответ:

А	Б	В	Г

- 18** Задана схема превращений веществ:



Определите, какие из указанных веществ являются веществами X и Y.

- 1) хлоруксусная кислота
- 2) 2-хлорпропионовая кислота
- 3) уксусная кислота
- 4) пропионовая кислота
- 5) β-аминопропионовая кислота

Запишите в таблицу номера выбранных веществ под соответствующими буквами.

Ответ:

X	Y

- 19** Из предложенного перечня выберите две реакции, которые относятся к реакциям замещения.

- 1) толуол с хлором на свету
- 2) пропен с бромной водой
- 3) фенол с бромной водой
- 4) бензол с хлором на свету
- 5) ацетилен с хлорной водой

Запишите номера выбранных ответов.

Ответ:

--	--

- 20** Из предложенного перечня выберите два фактора, которые приводят к увеличению скорости химической реакции между раствором хлорида меди(II) и цинком.

- 1) увеличение концентрации хлорида меди(II)
- 2) повышение давления в системе
- 3) измельчение цинка
- 4) понижение температуры
- 5) добавление воды

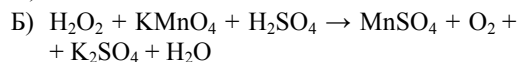
Запишите номера выбранных ответов.

Ответ:

--	--

- 21** Установите соответствие между схемой реакции и свойством атома марганца в этой реакции: к каждой позиции, обозначенной буквой, подберите соответствующую позицию, обозначенную цифрой.

СХЕМА РЕАКЦИИ

СВОЙСТВО АТОМА
МАРГАНЦА

1) только восстановитель

2) не проявляет окислительно-восстановительных свойств

3) и окислитель, и восстановитель

4) только окислитель

Запишите в таблицу выбранные цифры под соответствующими буквами.

Ответ:

А	Б	В

- 22** Установите соответствие между веществом и возможным электролитическим способом его получения: к каждой позиции, обозначенной буквой, подберите соответствующую позицию, обозначенную цифрой.

ВЕЩЕСТВО

A) калий

Б) фтор

В) алюминий

Г) водород

ПОЛУЧЕНИЕ ЭЛЕКТРОЛИЗОМ

1) расплава KF

2) водного раствора AgF

3) водного раствора $Al_2(SO_4)_3$

4) водного раствора $CuCl_2$

5) раствора Al_2O_3 в расплавленном криолите

Запишите в таблицу выбранные цифры под соответствующими буквами.

Ответ:

А	Б	В	Г

- 23** Установите соответствие между названием соли и отношением этой соли к гидролизу: к каждой позиции, обозначенной буквой, подберите соответствующую позицию, обозначенную цифрой.

НАЗВАНИЕ СОЛИ

A) нитрат меди(II)

Б) сульфид калия

В) ацетат аммония

Г) хлорид железа(III)

ОТНОШЕНИЕ К ГИДРОЛИЗУ

1) гидролизуется по катиону

2) гидролизуется по катиону и аниону

3) гидролизу не подвергается

4) гидролизуется по аниону

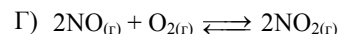
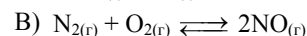
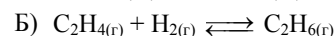
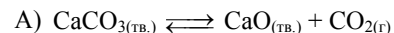
Запишите в таблицу выбранные цифры под соответствующими буквами.

Ответ:

А	Б	В	Г

- 24** Установите соответствие между уравнением обратимой реакции и направлением смещения химического равновесия при повышении давления: к каждой позиции, обозначенной буквой, подберите соответствующую позицию, обозначенную цифрой.

УРАВНЕНИЕ РЕАКЦИИ

НАПРАВЛЕНИЕ СМЕЩЕНИЯ
ХИМИЧЕСКОГО РАВНОВЕСИЯ

1) смещается в сторону прямой реакции

2) смещается в сторону обратной реакции

3) практически не смещается

Запишите в таблицу выбранные цифры под соответствующими буквами.

Ответ:

А	Б	В	Г

- 25** Установите соответствие между двумя веществами, данными в виде водных растворов, и реагентом, с помощью которого можно различить эти вещества: к каждой позиции, обозначенной буквой, подберите соответствующую позицию, обозначенную цифрой.

ВЕЩЕСТВА	РЕАГЕНТ
А) NH_4Cl и NaCl	1) $\text{Ba}(\text{NO}_3)_2$
Б) Na_2SO_3 и K_2SO_4	2) HCl
В) NaCl и KI	3) AgNO_3
Г) KNO_3 и KCl	4) NaOH
	5) Na_2CO_3

Запишите в таблицу выбранные цифры под соответствующими буквами.

Ответ:

А	Б	В	Г

- 26** Установите соответствие между мономером и полимером, образующимся при его полимеризации: к каждой позиции, обозначенной буквой, подберите соответствующую позицию, обозначенную цифрой.

МОНОМЕР	ПОЛИМЕР
А) бутадиен-1,3	1) дивиниловый каучук
Б) изопрен	2) натуральный каучук
В) винилбензол	3) полистирол
	4) полипропилен

Запишите в таблицу выбранные цифры под соответствующими буквами.

Ответ:

А	Б	В

Ответом к заданиям 27–29 является число. Запишите это число в поле ответа в тексте работы, соблюдая при этом указанную степень точности. Затем перенесите это число в БЛАНК ОТВЕТОВ № 1 справа от номера соответствующего задания, начиная с первой клеточки. Каждый символ пишите в отдельной клеточке в соответствии с приведёнными в бланке образцами. Единицы измерения физических величин в бланке ответа указывать не нужно.

- 27** Какую массу 17%-ного раствора хлорида меди(II) надо взять, чтобы при добавлении 15 г воды получить раствор с массовой долей соли 10%? (Запишите число с точностью до десятых.)

Ответ: _____ г.

- 28** Вычислите объём кислорода, необходимый для полного сгорания 12 л сероводорода. Объёмы газов измерены при одинаковых условиях. (Запишите число с точностью до целых.)

Ответ: _____ л.

- 29** Определите объём водорода (н.у.), который выделится при взаимодействии 1,875 моль цинка с избытком разбавленного раствора серной кислоты. (Запишите число с точностью до целых.)

Ответ: _____ л.



Не забудьте перенести все ответы в бланк ответов № 1 в соответствии с инструкцией по выполнению работы. Проверьте, чтобы каждый ответ был записан в строке с номером соответствующего задания.

Часть 2

Для записи ответов на задания 30–35 используйте **БЛАНК ОТВЕТОВ № 2**. Запишите сначала номер задания (30, 31 и т.д.), а затем его подробное решение. Ответы записывайте чётко и разборчиво.

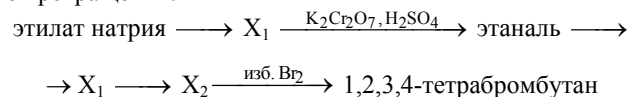
Для выполнения заданий 30, 31 используйте следующий перечень веществ: нитрат бария, сульфид калия, соляная кислота, нитрит натрия, перманганат калия, ацетат железа(II). Допустимо использование водных растворов веществ.

30 Из предложенного перечня выберите вещества, между которыми протекает окислительно-восстановительная реакция, в результате которой выделяется газ. В ответе запишите уравнение только одной из возможных окислительно-восстановительных реакций с участием выбранных веществ. Составьте электронный баланс, укажите окислитель и восстановитель.

31 Из предложенного перечня выберите два вещества, реакция ионного обмена между которыми приводит к образованию осадка. Запишите молекулярное, полное и сокращённое ионные уравнения реакции с участием выбранных веществ.

32 Карбид алюминия сожгли. Полученное твёрдое вещество поместили в раствор гидроксида натрия. Через образовавшийся прозрачный раствор пропустили газ, полученный при действии на магний концентрированной серной кислоты. При пропускании газа происходило выпадение белого осадка и образование соли бескислородной кислоты. Напишите уравнения четырёх описанных реакций.

33 Напишите уравнения реакций, с помощью которых можно осуществить следующие превращения:



При написании уравнений реакций используйте структурные формулы органических веществ.

34 Через 640 г 15%-ного раствора сульфата меди(II) пропускали электрический ток до тех пор, пока на аноде не выделилось 11,2 л (н.у.) газа. К образовавшемуся раствору добавили 665,6 г 25%-ного раствора хлорида бария. Определите массовую долю хлорида бария в полученном растворе. В ответе запишите уравнения реакций, которые указаны в условии задачи, и приведите все необходимые вычисления (указывайте единицы измерения искомых физических величин).

35 При сгорании органического вещества А массой 4,0 г получено 4,48 л (н.у.) углекислого газа и 2,88 г воды. Известно, что вещество А вступает в реакцию с раствором гидроксида бария при нагревании, в результате чего образуется предельный одноатомный спирт и соль, кислотный остаток которой содержит три атома углерода. На основании данных условия задачи:

- 1) проведите необходимые вычисления (указывайте единицы измерения искомых физических величин) и установите молекулярную формулу вещества А;
- 2) составьте возможную структурную формулу вещества А, которая однозначно отражает порядок связи атомов в его молекуле;
- 3) напишите уравнение реакции вещества А с раствором гидроксида бария при нагревании (используйте структурные формулы органических веществ).



Проверьте, чтобы каждый ответ был записан рядом с номером соответствующего задания.

Периодическая система химических элементов Д.И. Менделеева

		Г р у п п ы																
		I	II	III	IV	V	VI	VII	VIII									
П е р и о д ы	1	1 H 1,008 Водород															2 He 4,00 Гелий	
	2	3 Li 6,94 Литий	4 Be 9,01 Бериллий	5 10,81 B Бор	6 12,01 C Углерод	7 14,00 N Азот	8 16,00 O Кислород	9 19,00 F Фтор										10 Ne 20,18 Неон
	3	11 Na 22,99 Натрий	12 Mg 24,31 Магний	13 26,98 Al Алюминий	14 28,09 Si Кремний	15 30,97 P Фосфор	16 32,06 S Сера	17 35,45 Cl Хлор										18 Ar 39,95 Аргон
	4	19 K 39,10 Калий	20 Ca 40,08 Кальций	21 Sc 44,96 Скандий	22 Ti 47,90 Титан	23 V 50,94 Ванадий	24 Cr 52,00 Хром	25 Mn 54,94 Марганец	26 Fe 55,85 Железо	27 Co 58,93 Кобальт	28 Ni 58,69 Никель							
		29 63,55 Cu Медь	30 65,39 Zn Цинк	31 69,72 Ga Галлий	32 72,59 Ge Германий	33 74,92 As Мышьяк	34 78,96 Se Селен	35 79,90 Br Бром										36 Kr 83,80 Криптон
	5	37 Rb 85,47 Рубидий	38 Sr 87,62 Стронций	39 Y 88,91 Иттрий	40 Zr 91,22 Цирконий	41 Nb 92,91 Ниобий	42 Mo 95,94 Молибден	43 Tc 98,91 Технеций	44 Ru 101,07 Рутений	45 Rh 102,91 Родий	46 Pd 106,42 Палладий							
		47 107,87 Ag Серебро	48 112,41 Cd Кадмий	49 114,82 In Индий	50 118,69 Sn Олово	51 121,75 Sb Сурьма	52 127,60 Te Теллур	53 126,90 I Иод										54 Xe 131,29 Ксенон
	6	55 Cs 132,91 Цезий	56 Ba 137,33 Барий	57 La * 138,91 Лантан	72 Hf 178,49 Гафний	73 Ta 180,95 Тантал	74 W 183,85 Вольфрам	75 Re 186,21 Рений	76 Os 190,2 Осмий	77 Ir 192,22 Иридий	78 Pt 195,08 Платина							
		79 196,97 Au Золото	80 200,59 Hg Ртуть	81 204,38 Tl Таллий	82 207,2 Pb Свинец	83 208,98 Bi Висмут	84 [209] Po Полоний	85 [210] At Астат										86 Rn [222] Радон
	7	87 Fr [223] Франций	88 Ra 226 Радий	89 Ac ** [227] Актиний	104 Rf [261] Резерфордий	105 Db [262] Дубний	106 Sg [266] Сиборгий	107 Bh [264] Борий	108 Hs [269] Хассий	109 Mt [268] Мейтнерий	110 Ds [271] Дармштадтий							
		111 [280] Rg Рентгений	112 [285] Cn Коперниций	113 [286] Nh Нихоний	114 [289] Fl Флеровий	115 [290] Mc Московский	116 [293] Lv Ливерморий	117 [294] Ts Теннессин										118 Og [294] Оганесон

* Лантаноиды

58 Ce 140 Церий	59 Pr 141 Празеодим	60 Nd 144 Неодим	61 Pm [145] Прометий	62 Sm 150 Самарий	63 Eu 152 Европий	64 Gd 157 Гадолиний	65 Tb 159 Тербий	66 Dy 162,5 Диспрозий	67 Ho 165 Гольмий	68 Er 167 Эрбий	69 Tm 169 Тулий	70 Yb 173 Иттербий	71 Lu 175 Лютеций
------------------------------	----------------------------------	-------------------------------	-----------------------------------	--------------------------------	--------------------------------	----------------------------------	-------------------------------	------------------------------------	--------------------------------	------------------------------	------------------------------	---------------------------------	--------------------------------

** Актиноиды

90 Th 232 Торий	91 Pa 231 Протактиний	92 U 238 Уран	93 Np 237 Нептуний	94 Pu [244] Плутоний	95 Am [243] Америций	96 Cm [247] Кюрий	97 Bk [247] Берклий	98 Cf [251] Калифорний	99 Es [252] Эйнштейний	100 Fm [257] Фермий	101 Md [258] Менделеевий	102 No [259] Нобелий	103 Lr [262] Лоуренсий
------------------------------	------------------------------------	----------------------------	---------------------------------	-----------------------------------	-----------------------------------	--------------------------------	----------------------------------	-------------------------------------	-------------------------------------	----------------------------------	---------------------------------------	-----------------------------------	-------------------------------------

РАСТВОРИМОСТЬ КИСЛОТ, СОЛЕЙ И ОСНОВАНИЙ В ВОДЕ

	H ⁺	Li ⁺	K ⁺	Na ⁺	NH ₄ ⁺	Ba ²⁺	Ca ²⁺	Mg ²⁺	Sr ²⁺	Al ³⁺	Cr ³⁺	Fe ²⁺	Fe ³⁺	Mn ²⁺	Zn ²⁺	Ag ⁺	Hg ²⁺	Pb ²⁺	Sn ²⁺	Cu ²⁺
OH ⁻		P	P	P	P	P	М	Н	М	Н	Н	Н	Н	Н	Н	–	–	Н	Н	Н
F ⁻	P	М	P	P	P	М	Н	Н	Н	М	Н	Н	Н	P	P	P	–	Н	P	P
Cl ⁻	P	P	P	P	P	P	P	P	P	P	P	P	P	P	P	Н	P	М	P	P
Br ⁻	P	P	P	P	P	P	P	P	P	P	P	P	P	P	P	Н	М	М	P	P
I ⁻	P	P	P	P	P	P	P	P	P	P	?	P	?	P	P	Н	Н	Н	М	?
S ²⁻	P	P	P	P	P	–	–	–	Н	–	–	Н	–	Н	Н	Н	Н	Н	Н	Н
HS ⁻	P	P	P	P	P	P	P	P	P	?	?	?	?	?	?	?	?	?	?	?
SO ₃ ²⁻	P	P	P	P	P	Н	Н	М	Н	?	–	Н	?	?	М	Н	Н	Н	?	?
HSO ₃ ⁻	P	?	P	P	P	P	P	P	P	?	?	?	?	?	?	?	?	?	?	?
SO ₄ ²⁻	P	P	P	P	P	Н	М	P	Н	P	P	P	P	P	P	М	–	Н	P	P
HSO ₄ ⁻	P	P	P	P	P	?	?	?	–	?	?	?	?	?	?	?	?	Н	?	?
NO ₃ ⁻	P	P	P	P	P	P	P	P	P	P	P	P	P	P	P	P	P	P	–	P
NO ₂ ⁻	P	P	P	P	P	P	P	P	P	?	?	?	?	?	?	М	?	?	?	?
PO ₄ ³⁻	P	Н	P	P	–	Н	Н	Н	Н	Н	Н	Н	Н	Н	Н	Н	Н	Н	Н	Н
HPO ₄ ²⁻	P	?	P	P	P	Н	Н	М	Н	?	?	Н	?	Н	?	?	?	М	Н	?
H ₂ PO ₄ ⁻	P	P	P	P	P	P	P	P	P	?	?	P	?	P	P	P	?	–	?	?
CO ₃ ²⁻	P	P	P	P	P	Н	Н	Н	Н	?	?	Н	–	Н	Н	Н	Н	Н	?	Н
HCO ₃ ⁻	P	P	P	P	P	P	P	P	P	?	?	P	?	?	?	?	?	P	?	?
CH ₃ COO ⁻	P	P	P	P	P	P	P	P	P	–	P	P	–	P	P	P	P	P	–	P
SiO ₃ ²⁻	Н	Н	P	P	?	Н	Н	Н	Н	?	?	Н	?	Н	Н	?	?	Н	?	?
MnO ₄ ⁻	P	P	P	P	P	P	P	P	P	P	?	?	?	?	P	?	?	?	?	?
Cr ₂ O ₇ ²⁻	P	P	P	P	P	М	P	?	Н	?	?	?	P	?	?	Н	Н	М	?	P
CrO ₄ ²⁻	P	P	P	P	P	Н	P	P	Н	?	?	?	Н	Н	Н	Н	Н	Н	Н	Н
ClO ₃ ⁻	P	P	P	P	P	P	P	P	P	P	P	?	?	P	P	P	P	P	?	P
ClO ₄ ⁻	P	P	P	P	P	P	P	P	P	P	P	P	P	P	P	P	P	P	?	P

«P» – растворяется (> 1 г на 100 г H₂O);

«M» – мало растворяется (от 0,1 г до 1 г на 100 г H₂O)

«Н» – не растворяется (меньше 0,01 г на 1000 г воды);

«←» – в водной среде разлагается

«?» – нет достоверных сведений о существовании соединений

РЯД АКТИВНОСТИ МЕТАЛЛОВ / ЭЛЕКТРОХИМИЧЕСКИЙ РЯД НАПРЯЖЕНИЙ

Li Rb K Ba Sr Ca Na Mg Al Mn Zn Cr Fe Cd Co Ni Sn Pb (H₂) Sb Bi Cu Hg Ag Pt Au →

активность металлов уменьшается